

國立新竹高級工業職業學校 113 學年度 第一學期 生物科 第二次期中考

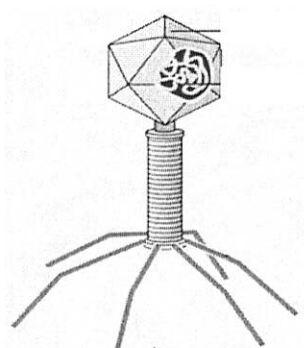
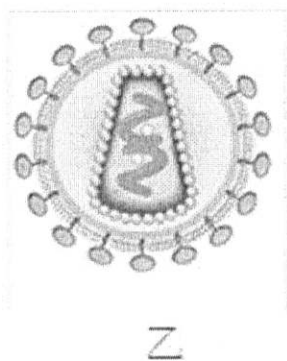
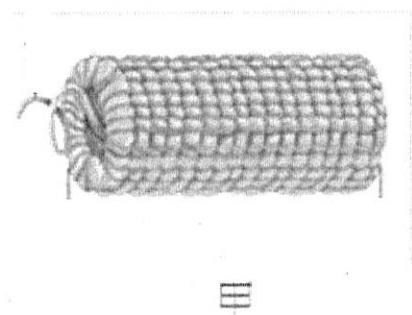
班級：餐一甲 乙

姓名：

座號：

※請作答於答案卷

1.在下圖中，造成新冠肺炎的病原體是 _____。



2. 請寫出 3 種如何避免得到新冠肺炎的方式

1	
2	
3	

3. 請寫出影響細菌生長的方式，並舉出一個例子

	影響細菌生長的方式	舉出一個例子
1		
2		
3		
4		

4.請說明抗生素的功能，

抗生素的功能	抑制 _____ 的生長
--------	--------------

5. 使用抗生素的注意事項 3 點

	使用抗生素的注意事項
1	
2	
3	

6. 有關人體免疫系統: A 區是三道防線名稱, B 區是作用方式

A 區	B 區
發炎反應	*皮膚保護 *製造抗體捕捉病毒
皮膜屏障	*發燒 *異物進入眼睛而流淚
專一性免疫	*消滅癌細胞 *白血球吞噬細菌

請在表格中寫下正確的配對

	名稱(由 A 區選一個答案)	例子(由 B 區選 2 個答案)
第一道防線		
第二道防線		
第三道防線		

※是非題: 以下題目正確者請寫○, 錯誤者請寫 ×

- () 人工色素是煤炭的副產品, 吃太多人工色素可能會造過動現象。
- () 長期使用人工香精, 會導致營養不良而且會產生錯誤的味覺。
- () 糖類對人體沒有好處, 攝取過多會導致糖尿病、高血壓、肥胖等疾病, 因此不應該食用。
- () 高果糖飲料容易形成脂肪肝, 應減少食用。
- () 自然界也有天然的色素, 如番茄、木瓜等。要少食用人工色素, 多吃天然蔬果。