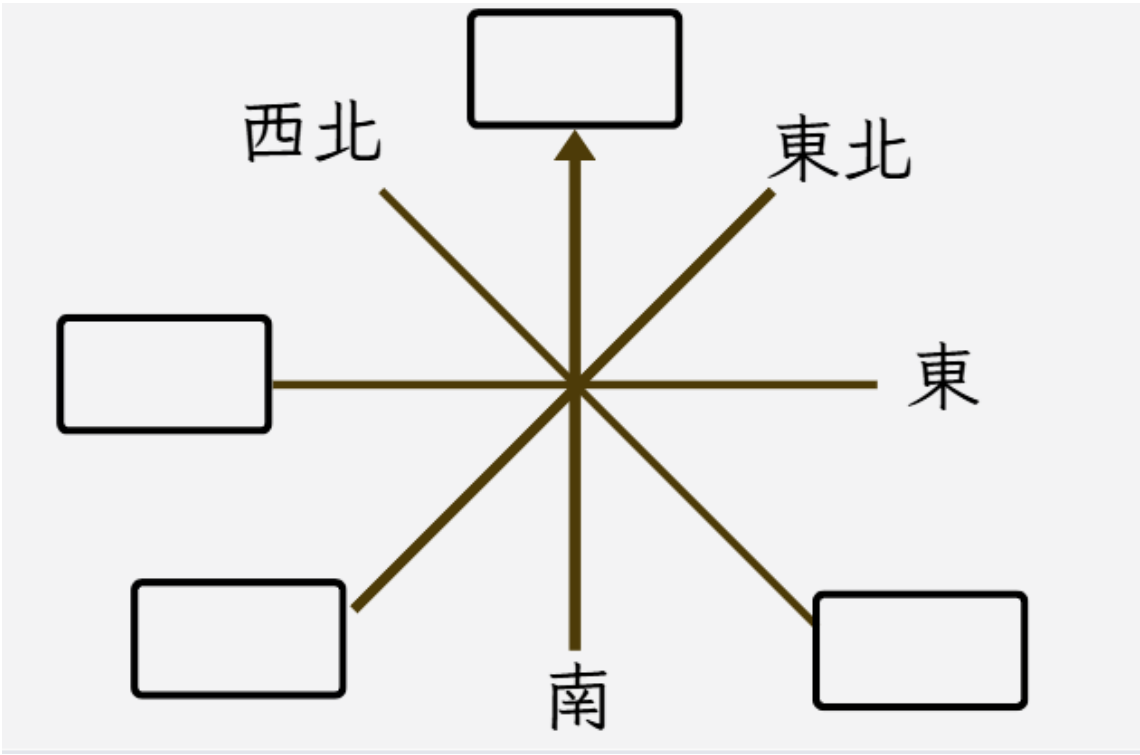


國立新竹高級工業職業學校 114 學年度第一學期第二次段考

科目：數學 班級：餐二 姓名： 座號：

一、 請填入方位(20 分)



二、 座位方向辨認(30 分)

講台			
翠絲	蛋頭先生	紅心	抱抱龍
芭比	安弟	蛋頭太太	火腿
邦妮	熊抱哥	三眼怪	肯尼
叉奇	蓋比	巴斯光年	牧羊女
胡迪	彈簧狗	阿薛	礦工彼得

1. 面對講台，熊抱哥的左邊是_____，右邊是_____。
2. 面對講台，熊抱哥的前面是_____，後面是_____。
3. 面對講台，阿薛的北方有誰(不只一個)_____。
4. 面對講台，阿薛的西方有誰(不只一個)_____。
5. 面對講台，阿薛的南方有誰_____，東方有誰_____。
6. 背對講台，熊抱哥的前面是_____，右邊是_____。

三、座標位置(20 分)

第 5 個		美美		阿德		家家
第 4 個			小明		小平	
第 3 個	阿霖		阿樂		寧寧	
第 2 個		小靜				
第 1 個	小安			姍姍		小王
	第 1 排	第 2 排	第 3 排	第 4 排	第 5 排	第 6 排

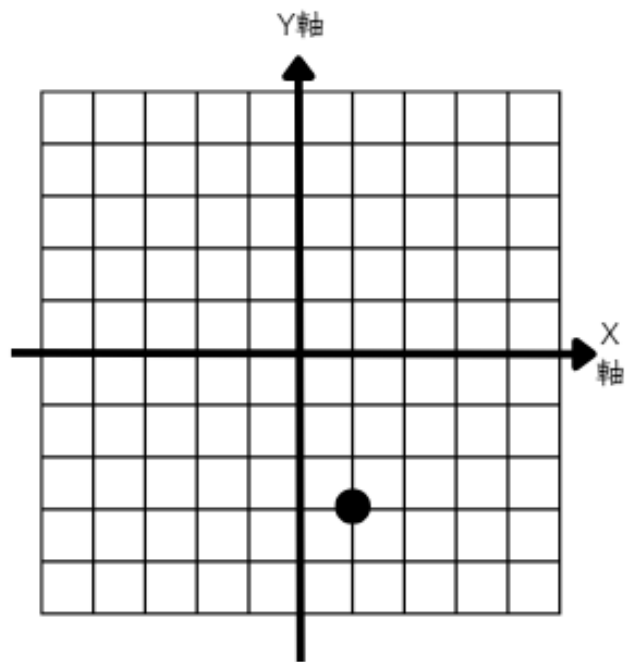
(1)寫出下列學生的坐標：

- ① 阿霖：_____
- ② 阿德：_____
- ③ 小王：_____
- ④ 小明：_____
- ⑤ 阿樂：_____

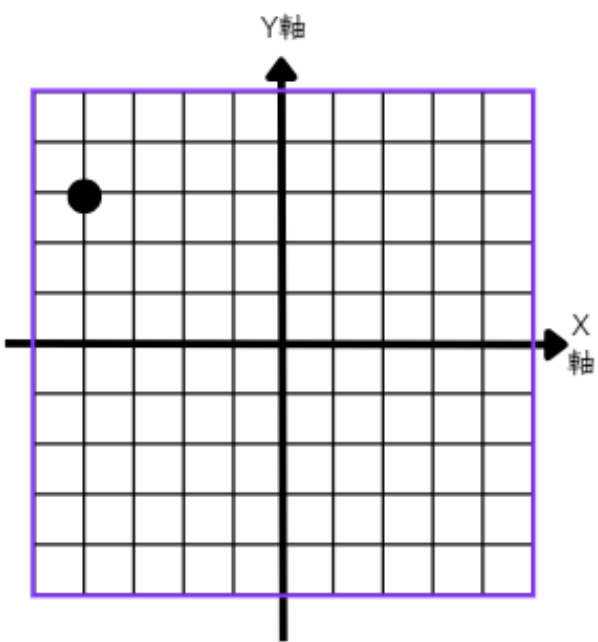
(2)寫出下列坐標所代表的學生：

- ① (1 , 1) _____
- ② (6 , 5) _____
- ③ (4 , 1) _____
- ④ (5 , 4) _____
- ⑤ (4 , 5) _____

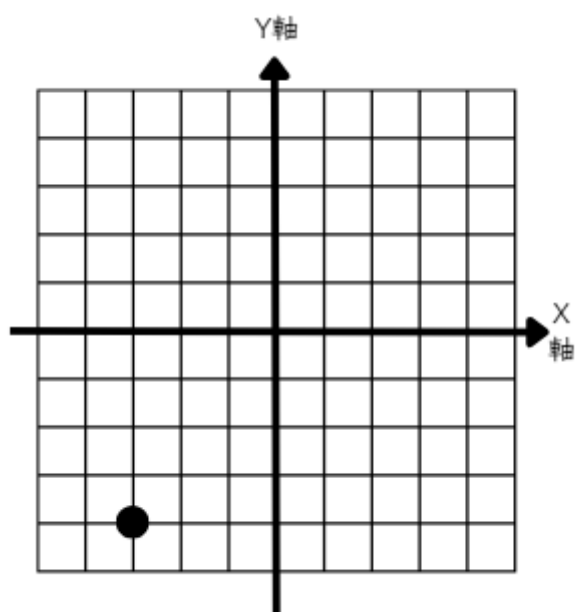
四、坐標軸(30 分)



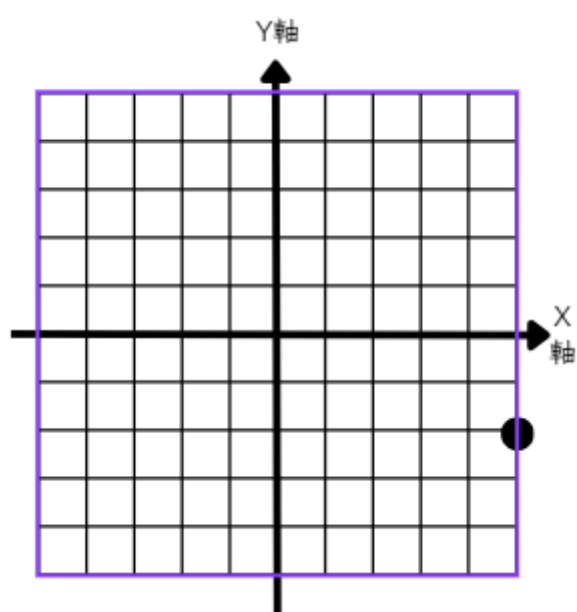
座標(_____, _____)



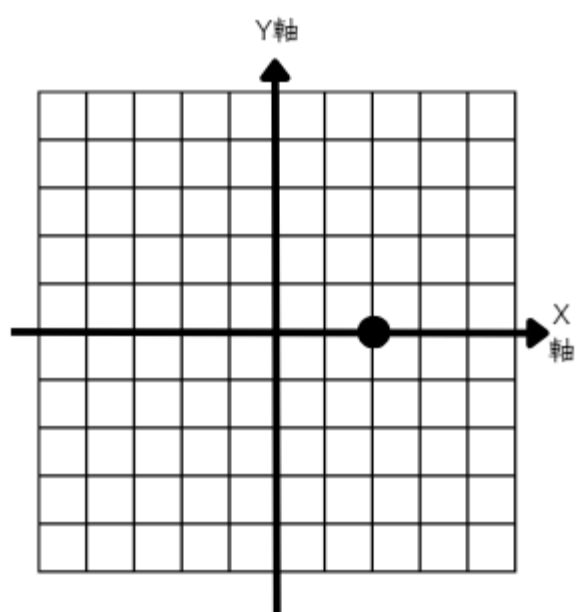
座標(_____, _____)



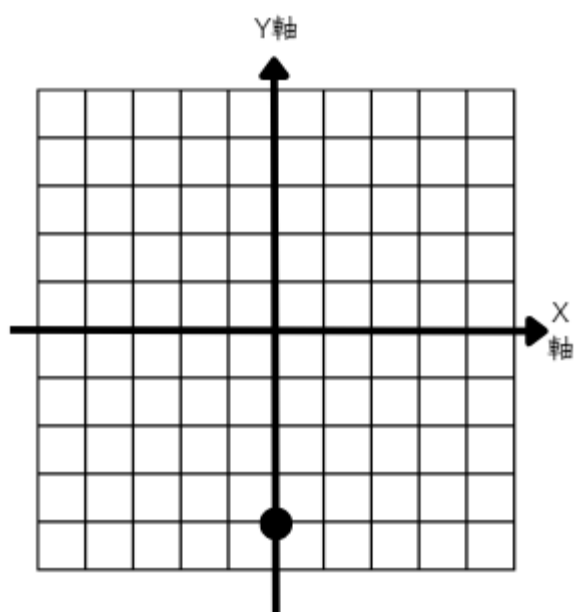
座標(____, ____)



座標(____, ____)



座標(____, ____)



座標(____, ____)