


113 學年度第二學期餐飲服務科汽車美容概論期末考卷

班級：

座號：






姓名：

一、連連看，請將圖片中的車輛連到正確的車型名稱（20%）





箱型車	轎車	小貨車/貨卡車	敞篷車
-----	----	---------	-----







二、車輛廠牌選擇題，請依圖片選出正確的廠牌名稱（20%）



1.()		(A) 三菱 MITUBISHI (B) 豐田 TOYOTA (C) 本田 HONDA (D) 福特 FORD
2.()		(A) 三菱 MITUBISHI (B) 豐田 TOYOTA (C) 本田 HONDA (D) 福特 FORD
3.()		(A) 三菱 MITUBISHI (B) 豐田 TOYOTA (C) 本田 HONDA (D) 福特 FORD
4.()		(A) 三菱 MITUBISHI (B) 豐田 TOYOTA (C) 本田 HONDA (D) 福特 FORD
5.()		(A) 凌志 LEXUS (B) 奧迪 AUDI (C) 寶馬 BMW (D) 賓士 BENZ

6.()		(A) 凌志 LEXUS (B) 奧迪 AUDI (C) 寶馬 BMW (D) 賓士 BENZ
7.()		(A) 凌志 LEXUS (B) 奧迪 AUDI (C) 寶馬 BMW (D) 賓士 BENZ
8.()		(A) 凌志 LEXUS (B) 奧迪 AUDI (C) 寶馬 BMW (D) 賓士 BENZ
9.()		(A) 鈴木 SUZUKI (B) 日產 NISSAN (C) 三菱 MITUBISHI (D) 豐田 TOYOTA
10.()		(A) 鈴木 SUZUKI (B) 日產 NISSAN (C) 三菱 MITUBISHI (D) 豐田 TOYOTA

三、汽車美容器材選擇題，請依圖片選出正確的車輛美容器材名稱（30%）

1.()		(A) 空壓機 (B) 氣動上蠟機 (C) 工作圍裙 (D) 輪胎刷
2.()		(A) 空壓機 (B) 氣動上蠟機 (C) 工作圍裙 (D) 輪胎刷

3.()		(A) 空壓機 (B) 氣動上蠟機 (C) 工作圍裙 (D) 輪胎刷
4.()		(A) 空壓機 (B) 氣動上蠟機 (C) 工作圍裙 (D) 輪胎刷
5.()		(A) 梯椅 (B) 高壓清洗機 (C) 泡沫機 (D) 吸塵器
6.()		(A) 梯椅 (B) 高壓清洗機 (C) 泡沫機 (D) 吸塵器
7.()		(A) 梯椅 (B) 高壓清洗機 (C) 泡沫機 (D) 吸塵器
8.()		(A) 梯椅 (B) 高壓清洗機 (C) 泡沫機 (D) 吸塵器

9.()		(A) 海綿 (B) 高壓清洗機 (C) 泡沫機 (D) 吸塵器
10.()		(A) 風槍 (B) 高壓清洗機 (C) 泡沫機 (D) 吸塵器

四、車身部件選擇題，請依圖片選出正確的車輛部件名稱(30%)

1.()		(A) 擋風玻璃 (B) 引擎蓋 (C) 前保桿 (D) 方向燈
2.()		(A) 擋風玻璃 (B) 引擎蓋 (C) 前保桿 (D) 方向燈
3.()		(A) 擋風玻璃 (B) 引擎蓋 (C) 前保桿 (D) 方向燈
4.()		(A) 擋風玻璃 (B) 引擎蓋 (C) 前保桿 (D) 方向燈

5.()		(A) 油箱蓋 (B) 車窗玻璃 (C) 車門把 (D) 葉子板
6.()		(A) 油箱蓋 (B) 車窗玻璃 (C) 車門把 (D) 葉子板
7.()		(A) 油箱蓋 (B) 車窗玻璃 (C) 車門把 (D) 葉子板
8.()		(A) 油箱蓋 (B) 車窗玻璃 (C) 車門把 (D) 葉子板
9.()		(A) 排氣管 (B) 後保桿 (C) 輪圈 (D) 車門
10.()		(A) 排氣管 (B) 後保桿 (C) 輪圈 (D) 車門