

科目：數學

班級：_____

姓名：_____

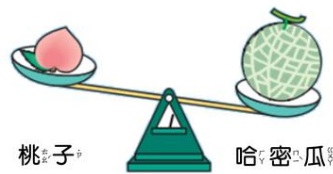
座號：_____

一、是非題：對的打○，錯的打X。每題4分，共20分。

- () 相同的杯子，水面越高，裝的水越多。
- () 在秤重時，看起來越大的物品，代表它越重。
- () 把鳳梨跟榴槤放天平上秤重，榴槤位置較低，榴槤較重。
- () 3 點的時侯，時鐘上的長針會指向 3。
- () 時鐘上的一大格代表 5 分鐘，一小格代表 1 分鐘。

二、選擇題：選出正確選項，每題4分，共20分。

- () 天平的兩邊各放了桃子和哈密瓜，哪一個比較重？



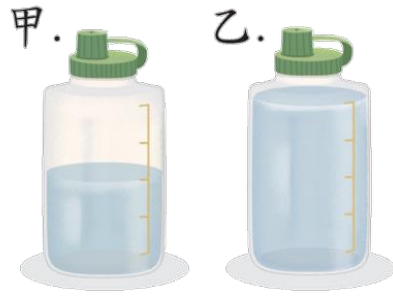
- (1) 桃子 (2) 哈密瓜 (3) 一樣重

- () 下圖是兩種蛋糕的秤重結果，下列敘述，何者正確？



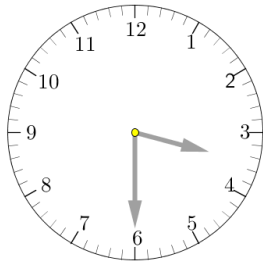
- (1) 一個櫻桃蛋糕跟 5 個砝碼一樣重
- (2) 一個巧克力蛋糕比 4 個砝碼重
- (3) 櫻桃蛋糕跟巧克力蛋糕差了 1 個砝碼的重量

3. () 下圖是兩個相同的水壺，哪一個水壺的水比較少？



- (1) 甲 (2) 乙 (3) 一樣少 (4) 無法比較

4. () 上課時，小帥抬頭看了下時鐘(如下圖)，請問當時是幾點？



- (1) 三點半 (2) 四點半 (3) 六點十八分


5. () 小美 9 點半上床睡覺，睡覺前 2 小時要洗澡，請問小美

會幾點洗澡？

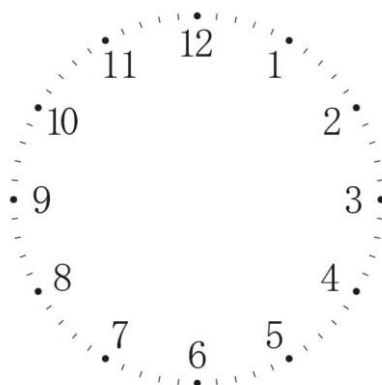
- (1) 7 點 (2) 7 點半 (3) 11 點 (4) 11 點半

三、請畫出正確的時鐘：每題 4 分，共 12 分。


(1) 3 點



(2) 5 點

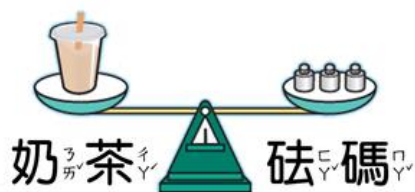


(3) 12 點




四、 填充題： 每題 3 分， 共 36 分。

1. 1 杯奶茶和 1 盒冰淇淋合起來和幾個砝碼一樣重？ 答： _____ 個



2. 請依下圖回答問題：



(1) 1 個漢堡和 _____ 個砝碼一樣重。

(2) 1 個甜甜圈和 _____ 個砝碼一樣重。

(3) 1 個漢堡和 1 個甜甜圈差 _____ 個砝碼的重量。

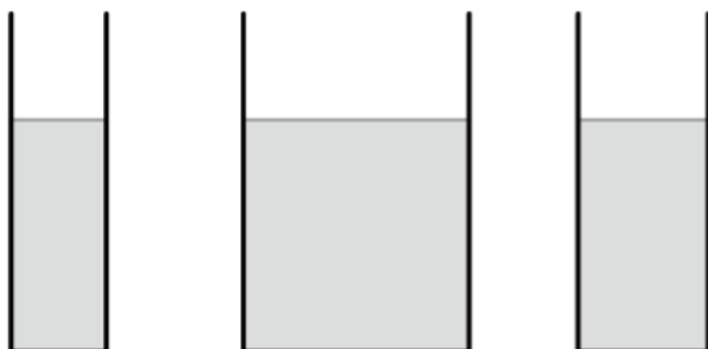
3. 看圖比比看：

(1) 哪一個最重？ _____

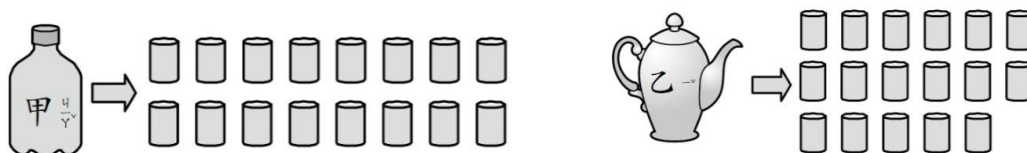
(2) 哪一個最輕？ _____



4. 哪一杯裝最少？請圈出來。



5. 依下圖回答問題：



- (1) 甲可以倒滿_____個小杯子。
- (2) 乙可以倒滿_____個小杯子。
- (3) 甲跟乙總共可以倒滿_____個小杯子。
- (4) 甲跟乙，誰能裝的容量較多？甲、乙。
- (5) 甲跟乙的容量，相差_____個小杯子。

五、看圖寫出正確的時間：每題3分，共9分。

- (1) _____點_____分
- (2) _____點_____分
- (3) _____點_____分



六、心得感想 (不會寫的字可以用注音寫)：每題3分，共3分

寫下這學期上數學課的心得，學到了什麼？想對老師說的話？(至少10字)

-----試題結束，請再仔細檢查一下題目有沒有漏寫喔！-----