

班級: 餐二

座號:

姓名:

一、下圖是美麗女裝服飾店四月底盤點長條圖。(每格 3 分)18%

1. 橫軸表示甚麼?

\_\_\_\_\_

2. 縱軸表示甚麼?

\_\_\_\_\_

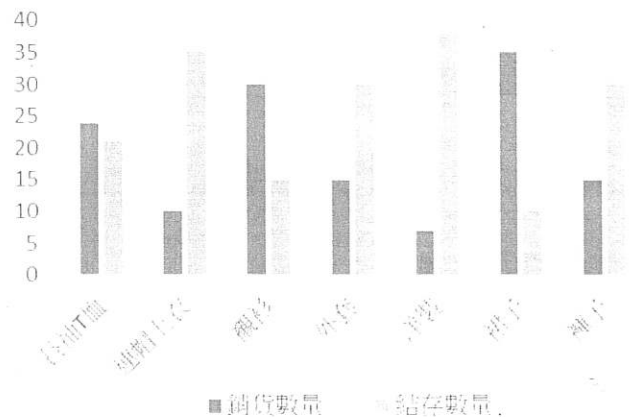
3. 從右圖可以看到哪類衣物的銷售與結存數量差距最大?

\_\_\_\_\_

4. 從圖中可以看到，哪類衣物賣的最好?\_\_\_\_\_

5. 從圖中可以看到，哪類衣物存貨剩最多?\_\_\_\_\_

6. 從圖中可以看到，每類衣物月初都進貨幾件?\_\_\_\_\_



二、下表為 96-100 年新生兒出生人數比，依表回答下列問題。(每格 3 分)18%

年度	生肖	合計	男	%	女	%	出生性別比
96 年	豬	203375	106422	52.33	96953	47.67	1.020
97 年	鼠	206373	102700	52.30	93673	47.70	1.096
98 年	牛	192465	100155	52.04	92310	47.96	1.085
99 年	虎	166630	86885	52.14	79745	47.86	1.090
100 年	兔	198386	102947	51.89	95439	48.11	1.079

1. 這五年男女生出生人數，男比女多?還是女比男多?\_\_\_\_\_

2. 哪一年新生兒人數最少?\_\_\_\_\_可能的原因是?\_\_\_\_\_

3. 從哪一年開始，新生兒人數開始低於二十萬人?\_\_\_\_\_

4. 哪一年男女出生比例最相近?\_\_\_\_\_

5. 新生兒出生人數逐年下滑，對社會有甚麼影響?\_\_\_\_\_

三、3/17-3/21 新竹氣溫折線圖，看圖完成下列問題。(每格 3 分)24%

1. 哪一天的氣溫最高?\_\_\_\_\_

哪一天的氣溫最低?\_\_\_\_\_

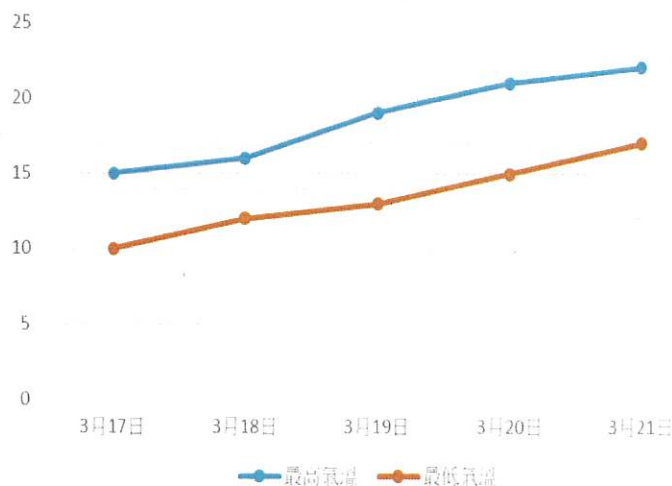
2. 哪一天溫差最小?\_\_\_\_\_；哪一

天溫差最大?\_\_\_\_\_

3. 請問 3/17 最高溫幾度?\_\_\_\_\_；

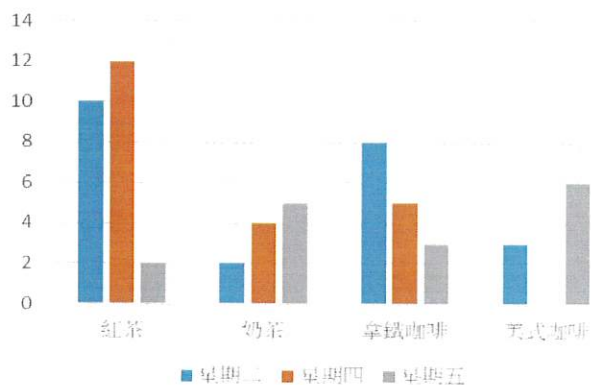
最低溫幾度?\_\_\_\_\_

4. 請問 3/19、3/20 最高溫，溫差幾度?\_\_\_\_\_；最低溫，溫差幾度?\_\_\_\_\_



四、3/17-3/21 竹工咖啡廳飲料銷售長條圖，看圖完成下列問題。1.3.4 題每格 4 分。20%

種類	紅茶	奶茶	咖啡 拿鐵	美式 咖啡
價格	20	30	40	30



1. 由長條圖可以看出，這周哪個飲品銷售最多?\_\_\_\_\_；哪個最少?\_\_\_\_\_

2. 依長條圖，完成以下飲品販售數量表。(每格 2 分)20%

	星期二	星期四	星期五	合計
紅茶				
奶茶				
咖啡拿鐵				
美式咖啡				
合計				

3. 星期幾飲品銷售最好?\_\_\_\_\_；星期幾最少?\_\_\_\_\_

4. 這周飲品總銷售額多少?\_\_\_\_\_

算式: