

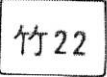



班級：() 座號：() 姓名：()

一、是非題：(每題 5 分)

1. () 地圖的四大元素有圖名、圖例、方位、比例尺。
2. () 一個地圖如果沒有方向標，就以地圖的「上方」為「南方」。
3. () 交通路線圖的繪製，常會忽略兩個車站的真實距離。
4. () 擁有世界上最古老的地下鐵系統，是「台北捷運」。
5. () 圖例中「信封」代表飲料店、「旗桿」代表警察局。
6. () 圖例的顏色，「藍色」代表河、海。
7. () 圖例的顏色，「綠色」代表森林、草地。
8. () 地圖是真實世界的縮小。
9. () 自己實地觀察所獲得的資料，叫「第一手資料」。
10. () 地理資訊系統的英文簡稱為 GIS。

二、選擇題：(每題 5 分)

11. () 什麼被視為是地圖的語言，辨識它是讀圖的第一步驟？(A)圖例 (B)經緯線 (C)方位 (D)方向標。
12. () 關於國道 1 號，哪一個錯誤？(A)稱為「中山高」 (B)是台灣第一條高速公路 (C)編號為 1 (D)可在此路騎腳踏車兜風。
13. () 哪一個不是四方位？(A)東方 (B)東北方 (C)西方 (D)南方。
14. () 關於國道 3 號，哪一項是錯誤的？(A)是台灣第二條南北向的高速公路 (B)稱為「北二高」 (C)稱為「雪山隧道」 (D)正式名稱為「福爾摩沙高速公路」。
15. () 在觀光地圖中顯示「相機」是代表？(A)適合拍照的景點 (B)有賣相機的地方 (C)有美食可吃地方 (D)有公車站牌的地方。
16. () 石門水庫在哪裡？(A)台南 (B)桃園 (C)花蓮 (D)新北。
17. () 「十八尖山」是小百岳之一，因有 18 個山頭而得名，請問十八尖山位在哪一個縣市？(A)新竹 (B)苗栗 (C)台中 (D)高雄。
18. () 若以您現在所坐的位置為平面地圖的中心，請問餐一甲班，在您「四方位」中的哪一個方位？(A)東 (B)南 (C)西 (D)北。
19. () 台灣島上東西降雨情形不同，請問造成此現象的原因與哪個有關？(A)地形 (B)洋流 (C)緯度 (D)族群。
20. () 哪一個是國道(高速公路)的標示？(A)  (B)  (C)  (D) .